




Колико је сокова било? Колико је попијено?
Пронађи слику која показује колико сокова је остало?




Колико је сокова било? Колико је попијено?
Пронађи слику која показује колико сокова је остало?



Колико је сокова било? Колико је попијено?
Пронађи слику која показује колико сокова је остало?




Колико је сокова било? Колико је попијено?
Пронађи слику која показује колико сокова је остало?

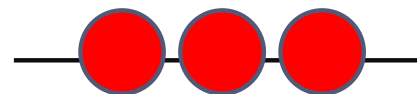
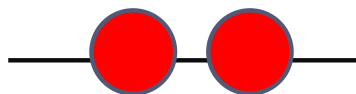



Колико је сокова било? Колико је попијено?
Пронађи слику која показује колико сокова је остало?

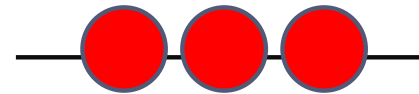
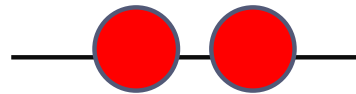
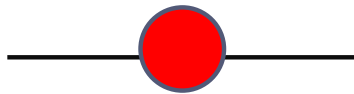
Тачна решења



Колико јабука је било? Колико је поједено?
Пронађи слику која показује колико јабука је
остало?

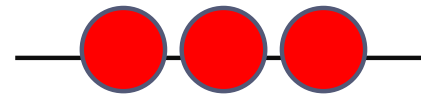
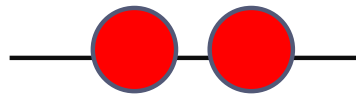
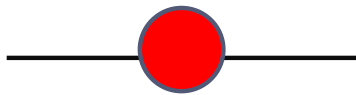


Колико јабука је било? Колико је поједено?
Пронађи слику која показује колико јабука је
остало?

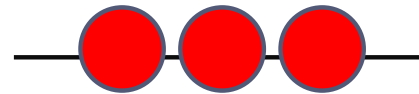
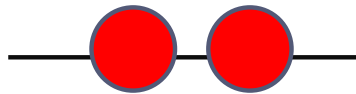
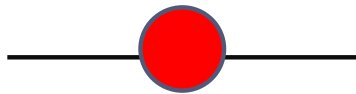




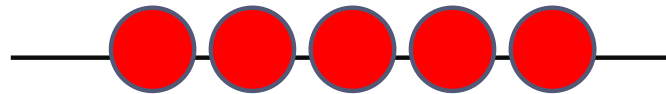
Колико јабука је било? Колико је поједено?
Пронађи слику која показује колико јабука је
остало?



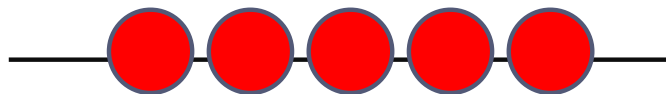

Колико јабука је било? Колико је поједено?
Пронађи слику која показује колико јабука је
остало?



Колико јабука је било? Колико је поједено?
Пронађи слику која показује колико јабука је
остало?



Колико јабука је било? Колико је поједено?
Пронађи слику која показује колико јабука је
остало?



Тачна решења

